



Al Khozama International School, Dammam

(B. E. S. T. Schools, Saudi Arabia)

Class: 4

Worksheet

Subject: Tamil

Evaluation-3 (February 2019)

I. பொருள்தருக (Meanings)

1. ஓய்தல் -
2. இருப்பிடம் -
3. வஞ்சகம் -
4. பணி -
5. அச்சம் -
6. ஆண்மை -
7. நேர்மை -
8. எண்ணுவது -
9. உறுதி -
10. ஒழி -

II. சேர்த்து எழுதுக (Join the letters)

1. நாடு + பற்று -
2. ஆ + பூனை -
3. நெல் + கதிர்கள் -
4. பணி + பெண் -
5. நெசவு + தொழில் -
6. பூ + தொட்டி -
7. நாட்டில் + உள்ள -
8. வண்ணத்து + பூச்சி -
9. எடை + பதிவு -

10 .விடுதலை + போராட்டம்-

III. பிரித்துஎழுதுக(Split the letters)

- 1 .மலர்த்தொட்டி
- 2.இரத்தமின்றி
3. விளைந்திருந்தன
4. பணியாற்றும்
- 5.நெடுநாள்
- 6.தொண்டர்ப்படை
- 7.முடிவெடுத்தன
- 8.ஆளுக்கொரு
- 9.சண்டையில்லாமல்.
- 10அறவழி

IV.எதிர்ச்சொல்(Opposites)

- | | |
|-------------|---|
| 1. மண்ணில் | x |
| 2. கிழே | x |
| 3. உள்ளே | x |
| 4. உயர்த்தி | x |
| 5. தந்தை | x |

V.உரியவிடையைஎழுதுக(Choose the best answer)

புதரில்,செடி,காந்தியடிகள்,பூனை,உயிரியல்பூங்காவிற்கு

1. தேடாமலேயேஉணவுகிடைத்துவிட்டதுஎன்று
_____ மகிழ்ந்தது.
2. கத்தியின்றிஇரத்தமின்றிஅறவழியில்

செய்தபோராட்டம்குமாரசாமியைஈர்த்தது.

3. தோழிகள் இருவரும் _____
க்குச்சென்றனர்.
4. பணிப்பெண்ணின் மகள் உழவர்களிடம்
_____ வளர்ப்பது குறித்து கேட்டாள்.
5. கௌதாரி ஒன்று பெரிய _____
பலகாலமாக வாழ்ந்து வந்தது

VI. கீழ்க்காணும் எண்களை எழுத்து வடிவில் எழுதவும்.

1. 10 - _____.
2. 21 - _____.
3. 35 - _____.
4. 45 - _____.
5. 49 - _____.
6. 50 - _____.

VII. சொற்றொடர் உருவாக்கி எழுதுக. (Make the sentence)

1. மலர் -
2. மரம் -
3. வீரம் -
4. கல்வி -
5. நாடு -
6. சிவப்பு -
7. சண்டை -

VIII. விடை எழுதுக.

1. குமாரனிடம் உனக்கு பிடித்த குணம் எது?
2. இளவரசன்போட்டியில் பங்கேற்க வந்தவர்களிடம் என்ன கொடுத்தான்?
3. தோழிகள் இருவரும் எடுத்துக்கொண்ட உறுதி மொழியாது?

4. பணிப்பெண்ணின்மகள்விதையைஎடுத்துசென்றுஎன்னசெய்தாள்?
5. அரசியாகஇளவரசன்யாரைதேர்வுசெய்தான்?
6. கௌதாரிஎங்குவாழ்ந்துவந்தது?
7. போக்குவரத்துக்குறியீட்டில்சிவப்புவிளக்குஒளிர்ந்தவுடன்நாம்என்னசெய்யவேண்டும்?
8. முயலும்கௌதாரியும்யாரைத்தேடிச்சென்றன?
9. கௌதாரிஏன்கோபம்கொண்டது?
10. பள்ளிபகுதிக்குயில்உள்ளகுறியீடுஎதனைஉணர்த்துகிறது?
11. மருத்துவமனைக்குஅருகேஉள்ளகுறியீட்டைஎழுதுக ?
12. குமரன்கொடியைஎவ்வாறுபாதுகாத்தார்?



Al Khozama International School, Damman

(B. E. S. T. Schools, Saudi Arabia)

Class: 4

Worksheet

Subject: Arabic

Evaluation-3 (February 2019)

Q1: Choose the correct word:

- (1) من هذا ؟ هذا (طالب , دست , بيت)
(2) ما هذه ؟ هذه (شجرة , مذيع , بصل)
(3) من هذه ؟ هذه (سبورة , مقعد , امرأة)
(4) من تلك ؟ تلك (نحل , حقيبة , طالبة)

Q2: Match the following :

	1 طبيب
	2 ساعة
	3 ممرضة
	4 مقعد
	5 معلم

Q3: choose the suitable word

- (1) طاولة (ذلك ، تلك)
(2) بوم (ذلك ، تلك)
(3) حصان (ذلك ، تلك)
(4) سبورة (ذلك ، تلك)

- (ذلك ، تلك) (5) عصفور.....
- (ذلك ، تلك) (6) خادمة.....
- (ذلك ، تلك) (7) طبي.....
- (ذلك ، تلك) (8) ولد.....
- (هي ، هو) (9) ممرضة.....
- (على ، فى) (10) الغصن أرجوحة.....

Q4: Arrange the numbers literally

	احد عشر
	ثلاثة عشر
	خمسة عشر
	اثنا عشر
	أربعة عشر
	سبعة عشر
	سنة عشر
	عشرون
	تسعة عشر
	ثمانية عشر

Q5: Translate to Arabic:

- 1) Shelf =..... 2) Basket.....
- 3) Flag =..... 4) Arrow.....
- 5) Guard =..... 6) Leaf.....
- 7) Car =..... 8) Chair.....

Q6: Translate to English :

- (1) دلو..... (2) مكواة.....
- (3) ملعقة..... (4) شجرة.....
- (5) بيبغاء..... (6) سيف.....
- (7) جوال..... (8) دلو.....

Q7: Rewrite the following Arabic poem:

إتى رجل أرضي خضرة

فِي مَزْرَعَتِي أَطْيِبُ ثَمْرَةَ
تَأْتِي مِنْهَا رِيحُ عَطْرَةَ
أَزْعَى حَقْلِي أَحْمِي شَجْرَةَ

.....
.....
.....
.....

Al Khozama International School, Dammam



Al Khozama International School, Dammam

(B. E. S. T. Schools, Saudi Arabia)

Class: 4

Worksheet 2

Subject: Math

Evaluation-3 (February 2019)

I. FILL IN THE BLANKS :

1. Fractions with same denominators are called _____ fractions.
2. We use _____ for the time after 12 midnight & before 12 noon.
3. The cost of one item is called _____
4. 1 hour = _____ minutes
5. $\frac{3}{5} + \frac{1}{5} =$ _____

II. CHOOSE THE CORRECT ANSWER FROM THE BRACKET :

(bargraph, 8, denominator , Rs 10, Rs 22)

6. In a fraction _____ tells the total parts of a figure.
7. 2200 p = _____
8. Four Rs 2 notes and two Re 1 notes equal to _____ rupees.
9. A _____ uses bars to display the data.
10. _____ 25 paise coins make Rs 2.

III. MATCH THE FOLLOWING :

- | | |
|-----------------------|--------------|
| 11. 9:50 | 6:15 |
| 12. 2 notes of Rs 500 | 10000 p |
| 13. 3:10 at night | AM |
| 14. Rs 100 | 1000 |
| 15. Quarter past 6 | 10 min to 10 |

IV. SOLVE :

16. Neena went for her dance class at 4:45 PM and came back at 6:40 PM. What was the

duration of the class ?


17. Cost of 13 calculators is Rs 39. What is the cost of 1 calculator ?

18. Rohan bought $\frac{3}{4}$ kg rice. She cooked $\frac{1}{4}$ kg. How much rice was left over?

19. Vivek had a ribbon $\frac{2}{5}$ m long. Rahul had a ribbon $\frac{3}{5}$ m long. If both the ribbons are joined what would be the total length ?

20. Draw the hands of the clock to show quarter to 3.5

21. Answer the questions on the basis of given pictograph :



1. How many books were sold in January?

2. In which month were maximum books sold?



Al Khozama International School, Dammam

(B. E. S. T. Schools, Saudi Arabia)

Class: 4

Worksheet 1

Subject: Math

Evaluation-3 (February 2019)

V. FILL IN THE BLANKS :

22. Fractions with different denominators are called _____ fractions.

23. We use _____ for the time after 12 midnight & before 12 noon.

24. The cost of one item is called _____

25. 1 hour = _____ minutes

26. $\frac{3}{5} + \frac{1}{5} =$ _____

VI. CHOOSE THE CORRECT ANSWER FROM THE BRACKET :

(circle chart, table, elapsed time, pictograph, Rs 5)

27. _____ has information arranged in rows & columns.

28. 500 p = _____

29. _____ are used to show and compare informations.

30. A _____ uses pictures to display the data.

31. _____ is the total amount of time that passes from the beginning to the end of an activity.

VII. MATCH THE FOLLOWING :

32. 7 hours

6:15

33. $\frac{52}{44}$

34. Quarter past 6

$\frac{15}{4}$

35. $3\frac{3}{4}$

$1\frac{1}{4}$

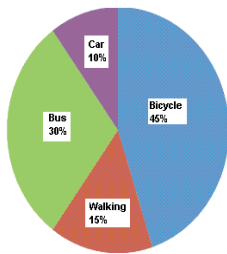
36. $\frac{1}{2}$

420 min

VIII. SOLVE :

37. A box has 9 apples of which 4 were found to be rotten. What fraction of apples are good ?

38. A box has 12 balls some of which are red & remaining are blue. The fraction for number of blue balls is $\frac{7}{12}$. How many balls are red ?
39. A pen costs Rs 25. What is the cost of 6 such pens ?
40. How many Rs 5 coins will make Rs200 ?
41. Sara wants to go to Dehradun from Saharanpur and boards the train at 2:00 AM. If the train takes 3 hours 20 minutes to reach Dehradun, at what time will it reach ?
42. Draw the hands of the clock to show 20 : 45 and write the time in two different ways .
43. Read the following circle chart and answer the following questions :



Types of Transportation
www.analyzemath.com

1. How many students are using car ?
2. How many are coming by bus ?
3. How many are coming to school by walking ?
4. Which is the favourite mode of transport ?



Al Khozama International School, Dammam

(B. E. S. T. Schools, Saudi Arabia)

Class: 4

Worksheet 1

Subject: Science

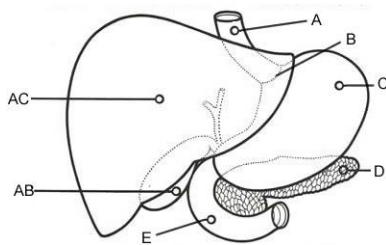
Evaluation-3 (February 2019)

I. Fill in the blanks

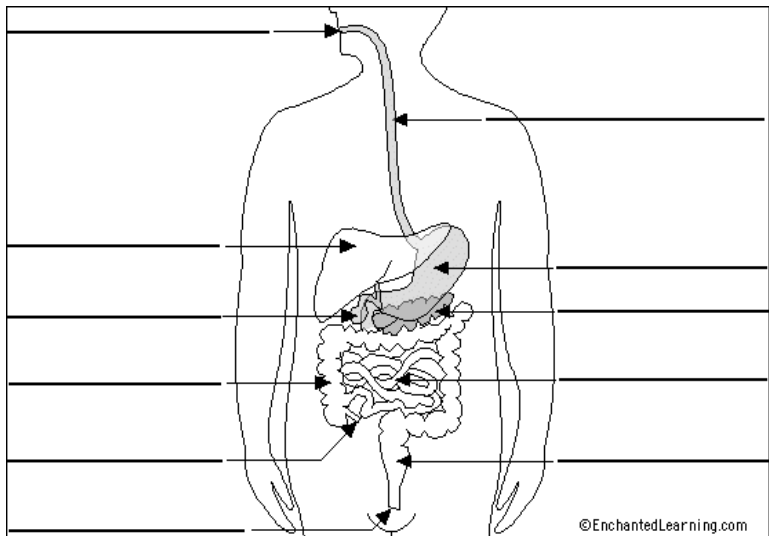
1. The process of taking food into the mouth is called _____.
2. Digestion helps our body to get _____.
3. The passage between the mouth and the anus is called _____.
4. _____ is watery substance in the mouth.
5. The part of the digestive system where nutrients are absorbed into the body is _____.
6. The exchange of gases takes place in the _____.
7. Cereals and oils give us carbohydrates and _____.
8. A food plan that has all nutrients in correct amounts is called _____.
9. We can use a _____ to plan a balanced diet.
10. _____ is a source of protein.
11. _____ is also known as foodpipe.

II. Label the figures given below

1. Label C and D in the figure

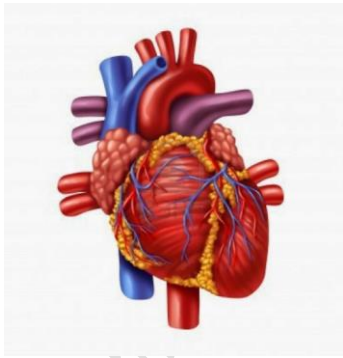


- 2.



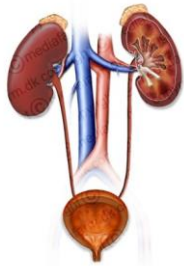
©EnchantedLearning.com

III. Identify the picture and comment on it.



1.

Urinary System



2.



3.

IV. Give reasons for the following

1. Food is mixed with saliva in the mouth.

2. Food from one group is not sufficient to keep us healthy.

3. Water is important part of our diet.

4. We should eat less fat

V. Answer the following questions in three or four sentences each.

1. Write the functions of brain in the body.

2. How do teeth help in digestion?

3. What is meant by digestion? How is it important for us?

4. Mention the role of small intestines in digestion.

5. Draw flow chart to show the sequence of steps during digestion.

6. How do doctors know what is wrong with which organ?

7. Name the food groups. Write any food items from each group.

8. What is the function of each nutrient?

9. Is the balance diet planning same for everybody? Why?

10. What is mid-day meal programme?

Al Khozama International School, Dammam



Al Khozama International School, Dammam

(B. E. S. T. Schools, Saudi Arabia)

Class: 4

Worksheet 2

Subject: Science

Evaluation-3 (February 2019)

1. Fill in the blanks

12. Water changes into _____ because of heat.
13. Wind can _____ the rate of evaporation.
14. The wind blows slowly and gently, it is called _____.
15. The coastal regions experience sea breeze during the _____ and
landbreeze during the _____.
16. The unit to measure wind speed is called _____.
17. The things obtained from nature are called _____.
18. Frosted window is because of _____.
19. A cyclone is also called _____ or a _____.
20. Monsoon winds blowing from the _____ in
summers.
21. Natural resources are getting _____ because of
rising consumption in India and China.

11. Name the following

1. A device for collecting and measuring the amount of rainfall.

2. A storm with very strong spinning winds.

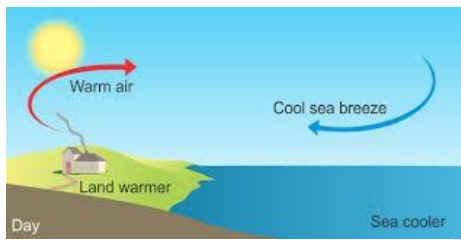
3. A wind blowing from sea to land during the day is called.

4. A strong wind along with rain and thunder storm.

5. Water vapour change to water is called.

III. Answer the following questions in two sentences each.

1. Name the pictures and describe it



1. _____



2. _____

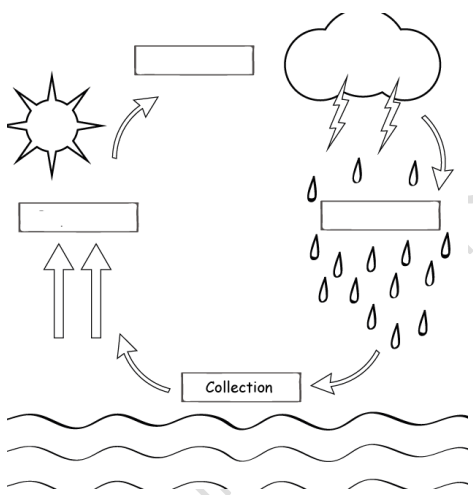
2. Write an example of evaporation and condensation from daily life.

4. Both monsoon winds and cyclone bring rain .How are they different?

6. The states of Tamil Nadu and Karnataka have a long history of fighting over sharing the waters of the Cauvery River which flows through both states. Why do you think people fight over water?

IV. Answer the following questions in three or four sentences each.

1. Label the picture and explain



2. Draw and explain the formation of wind.

3. Write 3-4 ways to conserve natural resources.

4. What are the different kinds of wind? How are they classified?

Al Khozama International School, Dammam

5. How can you show that hot air rises up?

Al Khozama International School, Dammam



Al Khozama International School, Dammam

(B. E. S. T. Schools, Saudi Arabia)

Class: 4

Worksheet 2

Subject: Social Science

Evaluation-3 (February 2019)

1. Fill in the blanks

1. The way of growing crops and keeping animals for food is called _____.
2. The main food of people living in eastern and southern part of our country is _____.
3. Cottage industries and small scale industries can be started in _____ and _____.
4. An example of large scale industry is _____.
5. The road connects towns, cities and states are called _____.
6. Mud roads are usually _____ and _____.
7. An animal with long hair and horns found in the mountain is _____.
8. We use a _____ to lift people during earthquakes.
9. Air transport is the _____ of all transport.
10. A hot air balloon travels with _____ and moves with the _____.

11. Name the following

7. The industries are usually set up home.

8. The main occupation of India.

9. The places where fish are kept to hatch eggs.

10. A deep hole on a road.

11. An animal that is born of a donkey and a horse.

12. The first aircraft.

13. A boat to carry people across short distances.

14. A machine that can fly.

15. The person who discovered the sea route to India.

16. The biggest highways are called _____.

III. Answer the following questions in two sentences each.

1. Explain with examples the two types of crops grown in India.

2. Ramu is a farmer in a village. He plans to move to a city .Can he continue to be a farmer?

Why or why not?

3. Why do we use animal for transport?

4. Name 4 food crops and 4 cash crops?

5. How is a cottage industry different from a large scale industry?

6. Explain the differences between an kuccha roads and cement roads.

7. Write two benefits of air transport.

8. Raju wants to send a box of mangoes from Mumbai to the Andaman and Nicobar islands. Which mode of transport should he choose and why? Explain the problems other means of transport will have.

9. Give two reasons why we use water transport.

10. How have high ways helped our travel ?

IV. Answer the following questions in three or four sentences each.

6. Write 5 things made from agriculture and 5 things we get from industries.

7. Describe the different types of animals that are used for transport.

8. Describe how aircrafts have progressed with time?

9. Write three differences between ships and aeroplanes.

10. Describe Suez and Panama Canal ?

Al Khozama International School, Dammam



Al Khozama International School, Dammam

(B. E. S. T. Schools, Saudi Arabia)

Class: 4

Worksheet 1

Subject: Social Science

Evaluation-3 (February 2019)

1. Fill in the blanks

1. The forests clean the _____ and store _____ by keeping in the ground without drying up.
2. Mangrove forest can be seen in _____ state.
3. Gypsum is used for making _____ and _____.
4. Coniferous forest can be seen in _____ state.
5. Metallic minerals are _____ and _____.
6. Mica is used for making _____.
7. Petroleum is used for making many useful products such as _____ and _____.
8. Minerals are the material found in _____.
9. Deciduous forests are found in which states of India? _____
10. Lime stone is used for making _____ and _____.

11. Name the following

17. Which country is the largest producer of mica?

18. The forests have small trees like cacti and babul that grow.

19. The Mineral is used for making drugs and paints.

20. Name the metal a very light and flexible.

21. The forests grow in salty water.

III. Answer the following questions in two sentences each.

11. Write two ways in which bamboo helps people living in the forest.

12. Why is forest s important?

13. Identify the forest and write two features of it.



14. What are the different types of minerals? Write one example of each.

15. How is a metallic mineral different from a non-metallic mineral?

IV. Answer the following questions in three or four sentences each.

11. What are the various kinds of forests? Explain any one feature each.

12. Write three things that you can say on a poster about the importance of forest.

15. 'Minerals are so useful for us so we can use them in plenty' Do you agree? Why or why not?

Al Khozama International School, Dammam



Al Khozama International School, Dammam

(B. E. S. T. Schools, Saudi Arabia)

Class: 4

Worksheet 1

Subject:Hindi

Evaluation-3 (February 2019)

1. निम्नलिखित गद्यांश को पढ़कर दिए गए प्रश्नों के उत्तर दीजिए :

एक घने जंगल में एक शक्तिशाली हाथी रहता था। वह बहुत जिद्दी था। जंगल के सभी जानवर हाथी से डरते थे। गीदड़ तो उससे बहुत परेशान था क्योंकि उनके बच्चे हाथी के पाँव के नीचे कुचल जाते थे। वे हमेशा यही सोचते थे कि किसी तरह यह हाथी मर जाए तो उनके बच्चों के जीवन की रक्षा हो सके।

(क) एक घने जंगल में कौन रहता था ?

.....

(ख) हाथी से कौन डरता था ?

.....

(ग) गीदड़ के बच्चे किसके पाँव के नीचे कुचल जाते थे ?

.....

(घ) गीदड़ क्या सोचते थे ?

.....

(ङ) इस गद्यांश के लिए उचित शीर्षक लिखिए।

.....

2. नीचे दिए गए शब्दों के अर्थ लिखिए :

(क) आतिशबाज़ी - (ख) विशालकाय -

(ग) विचार-विमर्श - (घ) विचित्र -

(ङ) पोकर - (च) मशक -

3. निम्नलिखित प्रश्नों के उत्तर एक पंक्ति में दीजिए :

(क) सुशील को पिताजी ने क्या पिलाया ?

.....

Commented [11]:

(ख) किसने सुशील और सुबलचंद्र की मनोकामना पूरी की ?

(ग) गुलिवर का जहाज़ किस बंदरगाह से रवाना हुआ ?

(घ) गुलिवर को लिलिपुट से बचकर निकलने में किसने मदद की ?

4. निम्नलिखित प्रश्नों के उत्तर लिखिए :

(क) गुलिवर की जब आँखें खुली तो उसने क्या देखा ?

(ख) गुलिवर को उन छोटे लोगों के बारे में क्या पता चला ?

5. मुहावरों के अर्थ लिखिए :

(क) चैन की साँस ली –

(ख) पलक झपकते ही –

(ग) खतरा मोल नहीं लेना –

6. निम्नलिखित प्रश्नों के उत्तर लिखिए :

1. गुलिवर को उन छोटे लोगों के बारे में क्या पता था ?

2. गुलिवर की जब आँखें खुली तो उसने क्या देखा ?

3. सुशील विद्यालय क्यों नहीं जाना चाहता था ?

4. पिता और पुत्र क्यों परेशान थे ?

7. नीचे दिए गए वाक्यों में सर्वनाम शब्दों को रेखांकित कीजिए :

- (क) यह कमरा प्रधानाचार्य का है।
(ख) उन्हें रोको मत, जाने दो।
(ग) मुझसे आज एक गलती हो गई।
(घ) गिलास किसने तोड़ा ?

8. सही विशेषण शब्द को कोष्ठक में से चुनकर लिखिए :

- (क) चाय में..... चीनी डालो। (थोड़ी / गिलास)
(ख) वहइंसान है। (मेरा / लालची)
(ग) राधा.....चूड़ियाँ पहनी है। (लाल / माला)
(घ) शीतल के बाल है। (मेरे / लंबे)

9. नीचे दिए गए संज्ञा शब्दों पर गोला ○ लगाइए :

- (क) तुम्हारा बाज़ार सुंदर ○
(ख) कानपुर मुझे अध्यापक
(ग) खेलना गरम पंखा



Al Khozama International School, Dammam

(B. E. S. T. Schools, Saudi Arabia)

Class: 4

Worksheet 2

Subject:Hindi

Evaluation-3 (February 2019)

1. निम्नलिखित गद्यांश को पढ़कर दिए गए प्रश्नों के उत्तर दीजिए : (5M)

एक बार एक बाग में बंदर था। उसे भूख लगी थी। वह भोजन के लिए इधर उधर घूम रहा था। तभी उसे एक खाली घर में एक घड़ा भरा हुआ दिखाई दिया, उस में बुने हुए चने भरे पड़े हुए थे। बंदर ने अपने दोनों हाथ घड़े में डाल दिए। अपने मुट्ठी में उसने चने तो भर लिए, पर अब उन्हें निकाल नहीं पा रहा था। हाथ निकालने कि कोशिश करते - करते बहुत देर हो गई और घर का मालिक आ गया। अब बंदर तो फँस गया।
(क) बंदर को क्या लगी थी ?

.....
(ख) बंदर ने दोनों हाथ किस में डाल दिए ?

.....
(ग) घड़े के अन्दर क्या भरा हुआ था ?

.....
(घ) बहुत देर होने पर वहाँ कौन आया ?

.....
(ङ) बंदर अपना हाथ क्यों नहीं निकाल पा रहा था ?

१. नीचे दिए गए शब्दों के अर्थ लिखिए :

(क) सुनहरी - (ख) अति -
(ग) कमल दल - (घ) न्यारी -

२. निम्नलिखित प्रश्नों के उत्तर एक पंक्ति में दीजिए :

स(क) बच्चे को माँ कैसे उठा रही है ?

.....
(ख) 'उठो लाल अब आँखे खोला' के कवि का क्या नाम है ?

.....
(ग) सुबह होने पर प्रकृति का कैसा दृश्य दिखाई देता है ?

.....
.....
३. निम्नलिखित प्रश्नों के उत्तर लिखिए :

(क) सुबह का वातावरण कैसे होता है ?

.....
.....
.....

(ख) किस के आने से फूल और कलियाँ मुस्काने लगती है ?

.....
.....
.....

(ग) जल में सुनहरी छाया क्यों पड़ रही है ?

.....
.....
.....

४. जब आपका उठने का मन नहीं होता तब आप क्या करते हैं ? चार या पाँच वाक्यों में वर्णन कीजिए :

.....
.....
.....
.....